



时间: 60 分钟

满分: 100 分

题号	一	二	三	四	五	总分
得分						



轻松练基础

## 一、填空。(26 分)

- 我们已学的质量单位有( ) ( ) 和( ), 称一头鲸质量常用( ) 作单位。
- 4 吨=( ) 千克      9600 千克=( ) 吨( ) 千克  
2000 克=( ) 千克      3500 克=( ) 千克( ) 克
- 一袋盐重 500 克,( ) 袋盐重 1 千克, 四袋盐重( ) 克, 即( ) 千克。
- 学校食堂有 8 吨煤, 用了 3000kg, 还剩( ) 吨。
- 小明和妈妈去赶集, 看到一辆载重 5( ) 的卡车上装满了大白菜, 妈妈买了一棵大白菜重 2( ), 又买了一袋面粉重 25( )。小明吃了 1 个重 100( ) 冰激凌, 路上遇见一位老爷爷牵了一头牛, 小明想这头牛大概重 200( )。
- 学校庆祝“六一”儿童节, 在校门口挂了一串灯笼。红黄黄紫紫紫, 按这个顺序排列, 第 25 盏灯笼是( ) 色。
- 在括号里填上适当的单位名称。  
1 枚硬币约 5( )      小明重约 45( )  
1 听可乐重 300( )      1 头大象重约 2( )  
4 头牛重 1( )      1 个书包重 3( )

## 二、判断。(对的打“√”, 错的打“×”)(5 分)

- 小红有 3 双鞋, 4 双袜子, 可以有 7 种不同的搭配方法。 ( )
- 6 吨与 6000 千克同样重。 ( )
- 1 吨比 600 克重 400 克。 ( )



4. 4 千克的棉花比 4 千克的铁重。 ( )

5. 1 桶重 100 千克, 10 桶重 1 吨。 ( )

### 三、选择。(5 分)

1. 在 3000 克、3 千克、2 吨中, 最重的是( )。

A. 3000 克                      B. 3 千克                      C. 2 吨

2. 下面总重量恰好是一吨的是( )。

A. 300 克和 700 克              B. 300 千克和 700 千克      C. 3 千克和 7 千克

3. 5 千米( ) 5 千克。

A.  $>$                               B.  $<$                               C. 无法比较

4. 下面物体中重量大约是 1 千克的是( )。

A. 3 个苹果                      B. 一个鸡蛋                      C. 一支粉笔

5.  $\bigcirc \square \square \triangle \bigcirc \square \square \triangle \cdots \cdots$  第 23 个图形是( )

A.  $\bigcirc$                               B.  $\square$                               C.  $\triangle$

### 四、实验操作。(30 分)

1. 把下面的质量按要求排列。(8 分)

4 克    4 吨    400 千克    4004 千克    4000 克

( )  $>$  ( )  $>$  ( )  $>$  ( )  $>$  ( )

3090 千克    3900 克    3 吨 900 千克    9030 克

( )  $<$  ( )  $<$  ( )  $<$  ( )

2. 连线。(7 分)

(1)



20



2



2

吨

克

千克

(2) 把动物与对应的体重连起来。



50 吨



80 千克



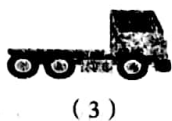
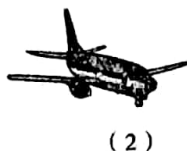
2 千克



4 吨

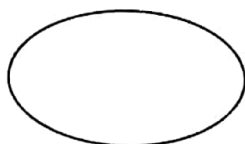


3. 按要求把序号填在○里。(6分)



超过1吨的

不足1吨的



4. 看一看,填一填。(9分)



200千克  
( ) 只



每袋100千克  
( ) 袋



250千克  
( ) 头

1吨








快乐提能力

五、解决问题。(34分)

1. 菜店运来6吨大白菜,上午卖出3000千克,下午全部卖完。下午卖出大白菜多少千克?
2. 在一辆载重5吨的货车上装有8个集装箱,每个集装箱重600千克,这辆车超载了吗?



3. 某鲜果公司将要运进一大批水果,见下表。

名称					
质量(千克)	600	500	800	700	400

一辆载重量为 3 吨的货车能一次将这批水果全部运到吗?

4. 买书。(10 分)



故事书



童话故事

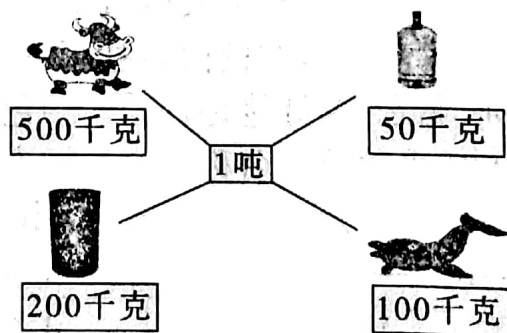


(1) 任意买上面这些书中的一本,有几种不同的买法?

(2) 小军有 30 元钱,要买一本故事书和一本童话书,共有几种不同的买法?

5. 毛毛家养了两头猪,一头重 125 千克,另一头重 210 千克,两头猪的总重量比 1 吨少多少千克?

6. (1) 下面图中每组物体都重 1 吨,看看每组物体各有多少?



(2) 4 头牛重多少千克? 是多少吨?

